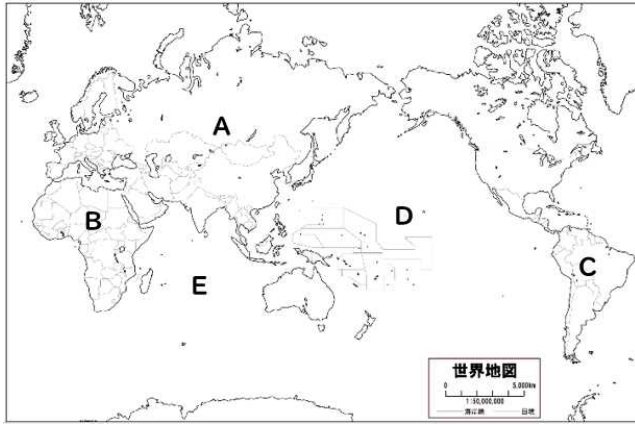


1 学年社会科 休校中の課題 確認テスト【地理的分野】

1 資料1中のA~Cの大陸名、D・Eの海洋名をそれぞれ答えなさい。

【資料1】



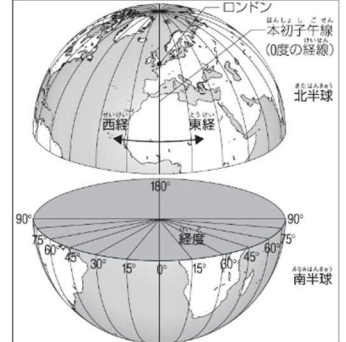
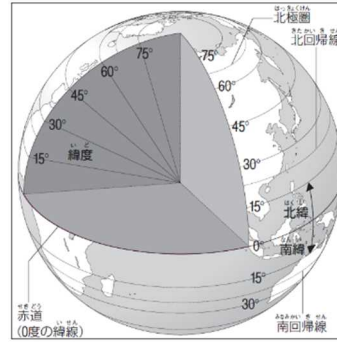
A	
B	
C	
D	
E	

2 資料2を参考に、次の文の①~⑧にあてはまる語句を答えなさい。

【資料2】

地球上の位置は緯度と(①)を使って表すことができる。緯度は(②)を0度として、それより北側を(③)、南を(④)という。また同じ緯度を結んだ線を緯線という。

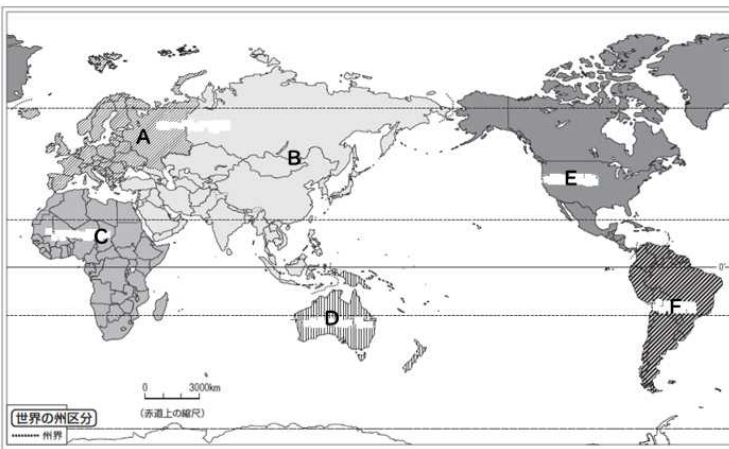
(①)はイギリスのロンドンを通る(⑤)を0度として、それより東を(⑥)、西を(⑦)という。また、同じ(①)を結んだ線を(⑧)という。



①		②		③		④	
⑤		⑥		⑦		⑧	

3 資料3で色分けされたA~Fの州名をそれぞれ答えなさい。また、下の6つの国は、それぞれどこの州に位置するか、合わせて答えなさい。

【資料3】



	州名	国名
A		
B		
C		
D		
E		
F		

【国名】 フランス ケニア カナダ マレーシア フィジー ブラジル

【解答】 1 A ユーラシア大陸 B アフリカ大陸 C 南アメリカ大陸 D 太平洋 E インド洋
 2 ①経度 ②赤道 ③北緯 ④南緯 ⑤本初子午線 ⑥東経 ⑦西経 ⑧経線
 3 A ヨーロッパ州、フランス B アジア州、マレーシア C アフリカ州、ケニア
 D オセアニア州、フィジー E 北アメリカ州、カナダ F 南アメリカ州、ブラジル

25点